

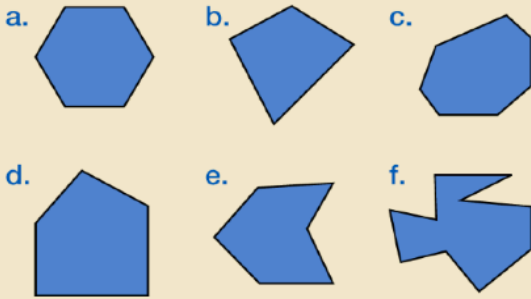
JUEVES 23 DE ABRIL DE 2020

MATEMÁTICAS

Hola chicos y chicas!!!

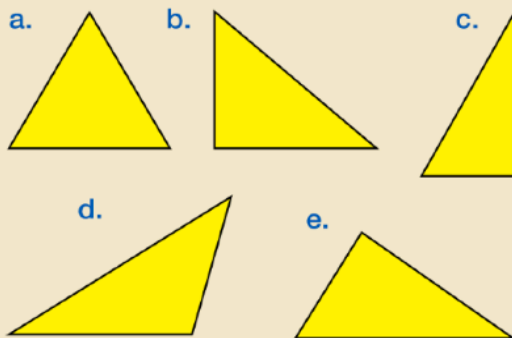
Hoy vamos a repasar lo que hemos visto sobre los polígonos. Y un poco de cálculo.

- 1 Clasifica cada polígono según el número de lados y escribe cuántos lados, vértices y ángulos tiene.

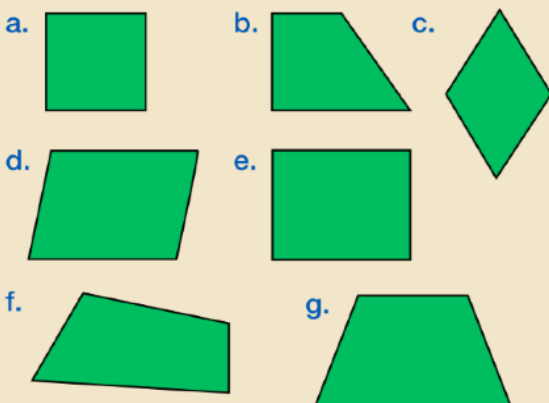


- 2 **TIEMPO PARA HABLAR.** Explica qué es un polígono regular.

- 3 Clasifica los triángulos según sus lados y según sus ángulos.



- 4 Clasifica estos cuadriláteros. Después, clasifica los paralelogramos.



CÁLCULO

$$23450 : 23$$

$$45607 : 45$$

$$85689 : 56$$

$$34509 : 24$$